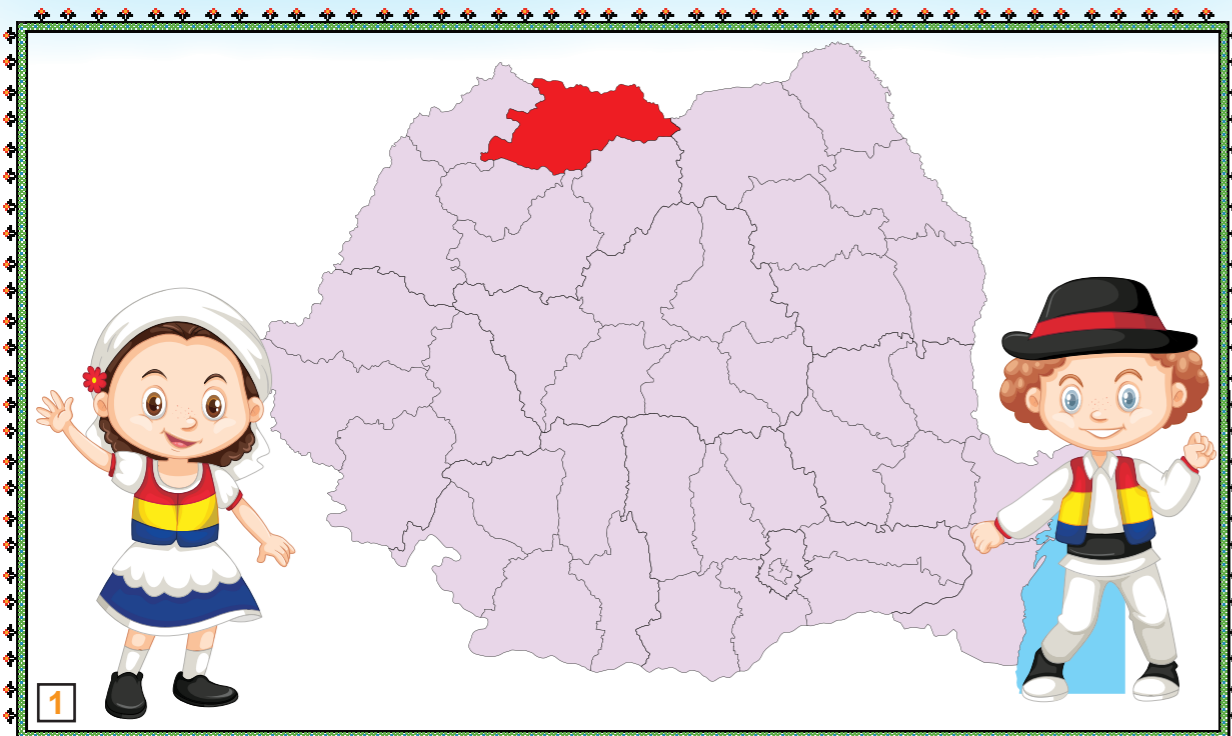


Elevii clasei I A sunt în tabără în Maramureș. Aici vor vizita muzee, se vor plimba cu mocănița, vor pleca în excursii în natură. Vor afla poveștile locului și vor face fotografii.



1. De ce merg copiii în tabere?

- a) Pentru că le place să-și petreacă timpul cu alți copii, făcând lucruri interesante.
- b) Pentru că părinții lor nu au timp și nici nu știu să îi ducă în locuri interesante.
- c) Pentru că sunt obligați de școală să meargă în tabere ca să învețe mai mult.

2. Privește imaginea 1. Unde este așezat Maramureșul pe harta României?

- a) Sus.
- b) Jos.
- c) În mijloc.

3. Privește imaginea 2! Copiii sunt în tabără la ...

- a) munte
- b) mare
- c) câmpie

4. Privește cu atenție harta din imaginea 2! Care dintre orașele de mai jos nu este localizat în Maramureș?

- a) Baia de Fier.
- b) Baia Sprie.
- c) Baia Mare.

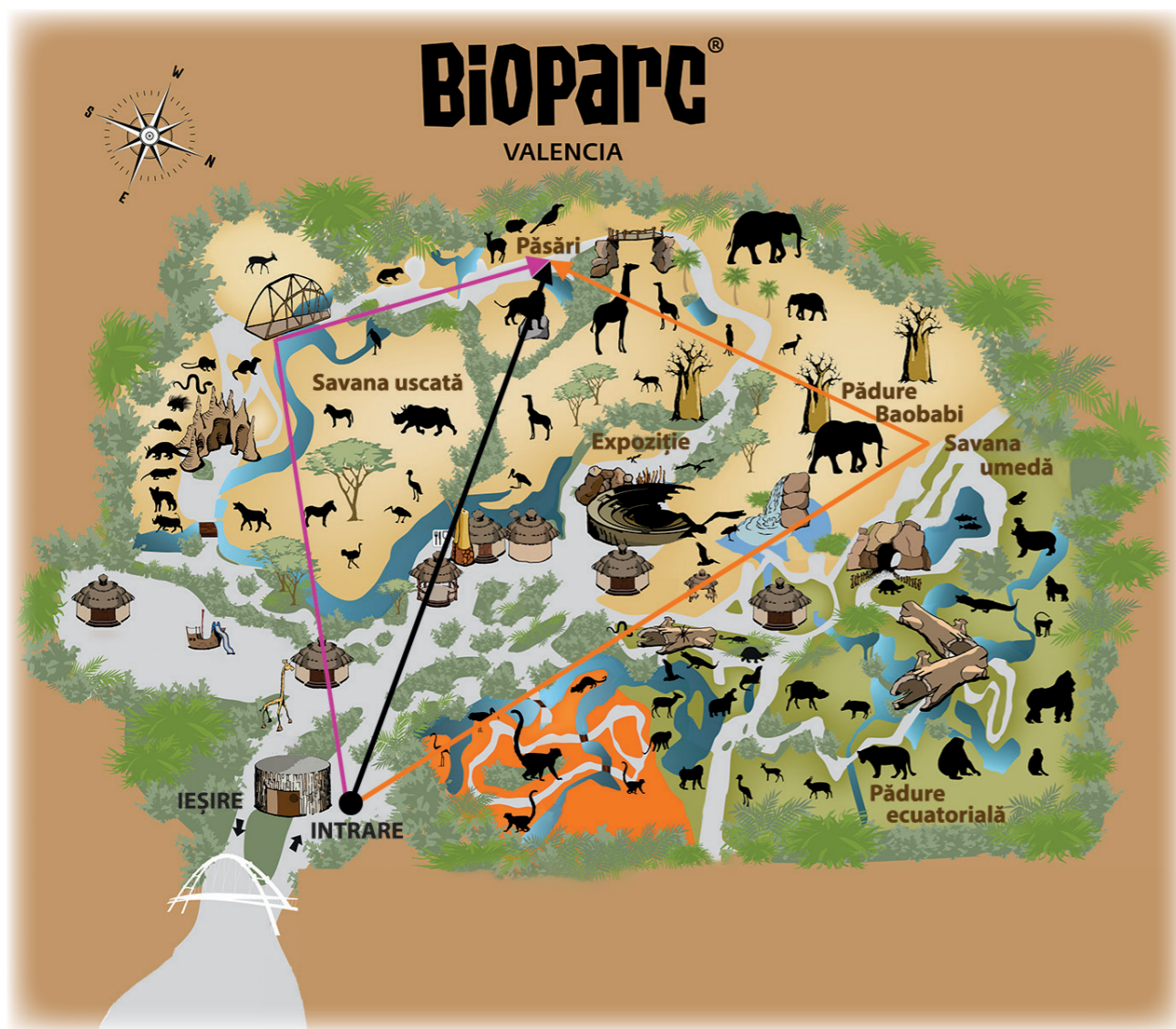
5. În tabără sunt 15 fete și cu 10 mai mulți băieți. Câți copii sunt în tabără?

- a) 40.
- b) 25.
- c) 30.



VACANȚĂ ÎN SPANIA

Maia și Luca, împreună cu familia lor, au fost în vacanță în Spania. Principala atracție pentru copii a fost Grădina Zoologică din Valencia, una dintre cele mai mari și mai moderne din Europa. Se numește BIOPARC și găzduiește peste 120 de specii de animale din diferite regiuni ale Africii. În 2019 a primit premiul de cel mai bun parc natural din Spania.



CLASA A III-A

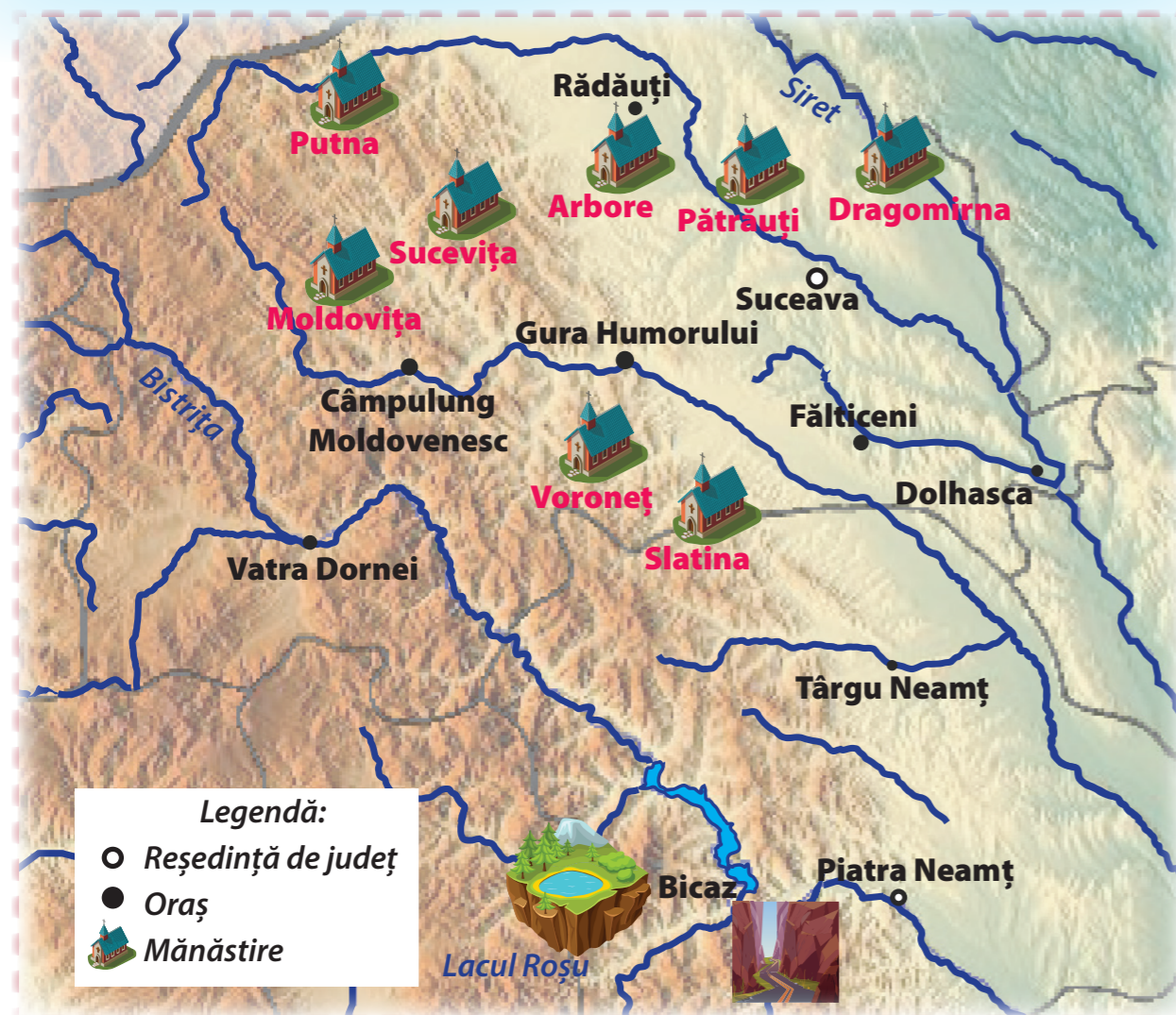
CLASA A III-A

- Cu ce au călătorit copiii din România în Spania, dacă au parcurs distanța în mai puțin de trei ore?
 - a) Cu avionul.
 - b) Cu trenul.
 - c) Cu mașina.
- Ce este o grădină zoologică?
 - a) Este un parc în care animale rare, exotice, dintr-o anumită zonă sunt ținute în condiții asemănătoare cu cele ale vieții lor în libertate.
 - b) Este un parc în care animale rare, exotice, dintr-o anumită zonă sunt ținute înghesuite în cuști, astfel încât să nu atace vizitatorii.
 - c) Este un parc în care animale rare, exotice, dintr-o anumită zonă sunt ținute în condiții asemănătoare unui muzeu zoologic.
- Priviți cu atenție harta! De ce credeți că nu există în Bioparc o zonă arctică sau polară?
 - a) Pentru că la Valencia vremea este mult prea călduroasă.
 - b) Pentru că Spania este mult prea îndepărtată de cei doi Poli.
 - c) Pentru că este o grădină zoologică cu animale specifice doar din zona Africii.
- Care este cel mai scurt drum de la intrare la zona păsărilor?
 - a) Cel marcat cu negru.
 - b) Cel marcat cu portocaliu.
 - c) Cel marcat cu mov.
- Pe ce continent se află Spania?
 - a) Africa.
 - b) Europa.
 - c) Asia.



VACANȚĂ ÎN MOLDOVA

Familia Popescu este într-un circuit în nordul Moldovei și în Bucovina. Hartă turistică de mai jos îi ajută să-și grupeze obiectivele dorite pe zone, astfel încât să vadă cât mai multe într-un timp cât mai scurt.



1. Unde este așezat Lacul Roșu pe harta de mai sus?

- a) În Sud.
- b) În Est.
- c) În Vest.

2. Ce formațiune stâncoasă spectaculoasă, importantă atracție turistică, poate vedea familia în apropiere de Lacul Roșu?

- a) Cheile Bicazului.
- b) Podul Suspendat.
- c) Muntele Ceahlău.



3. Care dintre mănăstirile de mai jos se află cel mai aproape de râul Siret?

- a) Mănăstirea Pătrăuți.
- b) Mănăstirea Arbore.
- c) Mănăstirea Dragomirna.

4. Biserica pictată a Mănăstirea Voroneț este înscrisă pe lista UNESCO a patrimoniului cultural mondial și este renumită pentru culoarea sa minunată. Aceasta provine dintr-o rețetă secretă care are la bază un mineral numit azurit. Cum a fost supranumită această biserică?

- a) Capela Sixtină a Estului.
- b) Biserică Albastră.
- c) Perla lui Ștefan cel Mare.

5. Sunt multe legende cu privire la obiceiurile lui Ștefan cel Mare legate de biserică. Ce spun acestea?

- a) După fiecare bătălie câștigată, Ștefan obișnuia să construiască o biserică.
- b) Pentru că era foarte credincios, Ștefan a primit numele de sfânt.
- c) Ștefan cerea ca toate bisericile să fie pictate în albastru.

